

# 令和6年度 せとうち子ども検定問題



- 解答時間は45分です。
- 解答は別紙解答用紙へ記入してください。

令和6年 月 日 ( )

瀬戸内町教育委員会

学校名		受験番号
学校		
年 組	名前	点数
		/100

# MENU

自然・生物分野 食分野

P1 ~ P2



食分野 文化分野 産業分野

P3 ~ P6

産業分野 地理・歴史分野 その他分野

P7 ~ P9

第1部 自然・生物分野(○×クイズ)

- 第1問 アミノクロウサギは子どもが大きくなってくると攻撃して遠くに追い出す ( )
- 第2問 アマミゲネズミはハブの攻撃をジャンプしてかわすことができる ( )
- 第3問 ヒヤンのしっぽには毒針があるので危険だ ( )
- 第4問 ルリカケスは奄美大島に生息する鳥の中で一年の最初に子育てをする鳥である ( )
- 第5問 リュウキュウアユは海を渡って別の川に行くことができる ( )

第1部 自然・生物分野

- 第6問 このトカゲは何？



- ①アオスジトカゲ
- ②バーバートカゲ
- ③オオシマトカゲ

答え

- 第7問 この鳥は何？



- ①アカマタ
- ②アカヒゲ
- ③アカショウビン

答え

- 第8問 干潟に住むこのカニは何？



- ①ズワイガニ
- ②コメツキガニ
- ③シオマネキ

答え

第9問      これは何の根？



- ①オキナワジイ
- ②サキシマスオウノキ
- ③ガジュマル

答え

---

第10問      猛毒のトゲを持ちサンゴを食い荒らす生き物は？




- ①オニヒトデ
- ②ヤドカリ
- ③ハリセンボン

答え

---

## 第2部 食分野

第11問      正月に儀式で3種類の食べ物をいただく料理名を何というか？



- ① さんこん 三献
- ② さんしよく 三食
- ③ さんしゆ 三種

答え

---

第12問      米を煎って粉にしたものに砂糖を混ぜた型菓子を何というか？

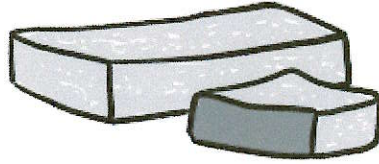


- ①ムスコ
- ②モチコ
- ③コメコ

答え

---

第13問 もち米粉、黒糖、水飴から作るお菓子は何か？



- ①フテイ餅
- ②ジョウヒ餅
- ③カシャ餅

答え

---

第14問

豊年祭などの祭りの時などおにぎりが振る舞われます。このおにぎりの事を何というか？



- ①いわいめし
- ②まつりめし
- ③ちからめし

答え

---

第15問

夏に収穫するサボテン科の果物で、赤い実をしたリンゴ大の大きさをしている。果肉は白とピンクがあり、表面には、緑色のトゲのような突起がある果物は何か？

- ①ドラゴンフルーツ
- ②フルーツドラゴン
- ③ドラゴンフード

答え

---

第3部 文化分野 (シマのことわざについて意味を答えましょう)

- 第16問 ムンヌ シリハテヤ ネン 答え
- 第17問 キチャムンヌ ミダレヤ コホロノ ミダレ 答え
- 第18問 ジンカネイ クリユンマ タマシイ クリイリイ 答え
- 第19問 ムングトウヤ ミイナレ シイナレ 答え

(瀬戸内町の島口について答えましょう)

- 第20問 「カマチ」という方言は共通語で何というか？ 答え
- 第21問 「ティディン」という方言は共通語で何というか？ 答え
- 第22問 「ミニャ」という方言は共通語で何というか？ 答え
- 第23問 「ヒンジャ」という方言は共通語で何というか？ 答え
- 第24問 「クツカル」という方言は共通語で何というか？ 答え
- 第25問 「ユンドゥリ」という方言は共通語で何というか？ 答え
- 第26問 「ニャーリ」という方言は共通語で何というか？ 答え
- 第27問 「ブギンシャ」という方言は共通語で何というか？ 答え

第28問 集落の祭祀(神をまつること)などが行われていた広場をなんというか？

- ①ミヤー
- ②シュー
- ③カミヤー

答え

---

(諸鈍シバヤについて答えましょう)

第29問 盲目の旅人が川を渡ろうとする様子を演ずる演目は何というか？



- ①ダットドン
- ②ダットサン
- ③ダットキン

答え

---

第30問 鎌を持って演ずる演目は何というか？

- ①カマカリおど踊り
- ②カマおど節
- ③カマおど踊り

答え

---

第31問 旅立ちで、家族との別れづらさを歌ったシマ唄は何というか？



- ①いきゃんばかきふし加那節
- ②いきゃんなかきふし加那節
- ③いきゅんにゃかきふし加那節

答え

---

第32問 米をはじめとする自然の恵みに感謝して、主に豊年祭で踊られる踊りを何というか？

- ①七月おど踊り
- ②八月おど踊り
- ③九月おど踊り

答え

---

第33問 奄美で昔から歌いつがれてきた「シマ唄」。その「シマ」とは、もともと何をさす言葉か？

- ①大島郡全体
- ②喜界島
- ③集落

答え

---

第34問 わたしたちは普段、新暦と呼ばれるカレンダーにしたがって生活しています。ところが島の行事には、ときどき旧暦というものがでできます。この旧暦、一体何の動きをもとに作られた暦か？



- ①太陽
- ②月
- ③金星

答え

---

第35問

奄美では干潮でサンゴ礁が水面から現れた夜に、ライトを照らして貝や魚を捕りに行くことがあります。これをなんというか？



- ①イガリ
- ②イザリ
- ③アサリ

答え

---

#### 第4部 産業分野

第36問

昭和35年(1960)年古仁屋瀬久井に創業開始した缶詰め工場は、何の缶詰めを作っていたのか？



- ①スモモ
- ②タンカン
- ③パイナップル

答え

---

第37問

南部大島の基幹産業のシンボルとして、昭和38(1963)年古仁屋瀬久井に操業を開始し、惜しまれながら昭和51(1976)年に解体された建物は何か？

- ①製材所 せいざいしよ
- ②製糖工場 せいとうこうじょう
- ③造船所 ぞうせんしよ

答え

---

第38問

古仁屋市街地の背後にそびえ、標高415mに建つ展望台からは、風光明媚な大島海峡をはさんで加計呂麻島・請島・与路島・徳之島が一望できる。その展望台の名前は次のうちどれか？

- ①高知山展望台 こうちやまてんぼうだい
- ②油井岳展望台 ゆいだけてんぼうだい
- ③湯湾岳展望台 ゆわんだけてんぼうだい


答え

---



第39問

加計呂麻島伊子茂小中学校の前で、雨にも負けず、島を襲う強烈な台風にも負けず、子どもたちの安全を見守っている警察官(人形)は通称何と呼ばれているか？



- ① 「伊子茂かける」くん
- ② 「伊子茂まもる」くん
- ③ 「伊子茂まもぞう」くん

答え

第40問

加計呂麻島押角集落の奥まった水源地近くには、集落の人々によって植えられたカンヒザクラの並木が生い茂り、初夏には緑のトンネル、早春になると濃桃色の小花をいっぱいにつけるといわれる並木をなんというか？



- ① 押角モード
- ② 押角ワンド
- ③ 押角ミヤード

答え

第5部 地理・歴史分野・第6部 その他

第41問

奄美群島で一番高い山は湯湾岳(694メートル)です。では、瀬戸内町内の中で一番高い山は次のうちどれか？



- ① 請島で一番高い大山
- ② 大島側で一番高い油井岳
- ③ 加計呂麻島で一番高い加崎岳

答え

第42問

瀬戸内で、昔から使っているかたちの竹かご。ヒモをひたいに掛けて物を運んだりできます。それは何とよばれているか？



- ① キンチク
- ② マダケ
- ③ テル

答え

第43問

家々を取りかこんでいる垣根。さまざまな種類があります。そのなかで、特に、西古見や実久の海沿いや、与路の集落などで、よくみられるのは次のうち次のうちどれか？

- ① たけがき 竹垣
- ② ししがき 猪垣
- ③ いしがき 石垣

答え

---

第44問

瀬戸内町で人が住み始めたのは、次のどの時代か？

- ① えどじだい 江戸時代
- ② めいじじだい 明治時代
- ③ じょうもんじだい 縄文時代

答え

---

第45問

写真の遺物(昔の人が使った物)は、石でできていますが、何の道具か？



- ① いしのやじ 石の薙
- ② 石のヤリ
- ③ 石の矢

答え

---

第46問

平成3(1991)年、全世界空手道選手権大会で優勝した、小さな巨人のニックネームをもつ、本町阿木名出身の武道家は誰？



- ① みどり 緑 けんじ 健児
- ② みどり 緑 けんいち 健一
- ③ みどり 緑 けんぞう 健三

答え

---

第47問

加計呂麻島で、国民的映画「男はつらいよ」シリーズ最終作「紅の花」を撮影した監督は誰？



- ① やまだ 山田 ようじ 洋次
- ② しもだ 下田 ようじ 洋次
- ③ うえだ 上田 ようじ 洋次

答え

第48問

百人に一人のうたしゃ(唄者)と呼ばれ、突き抜けるような高音の裏声、張りのある伸びやかな天性の美声、感情の極まりを聴く人の心に届ける本町加計呂麻島諸数出身の唄者は誰？




- ① ふくしま 福島 こうぎ 幸義
- ② たけした 武下 かすひら 和平
- ③ しよかず 諸数 いちろう 一郎

答え

第49問

本町には、大島海峡を挟んで「加計呂麻島」さらに南には「請島」「与路島」があり、急患が発生した時に「海の救急車」といわれる「救急艇」が出勤し、町民の命を守っている。その救急艇の名前は次のうちどれ？



- ① きゅうきゅうてい 救急艇はくほう
- ② きゅうきゅうてい 救急艇おおとり
- ③ きゅうきゅうてい 救急艇サウザントサニー号

答え

第50問

世界遺産一覧表記載基準(自然遺産)のうち、「奄美大島・徳之島・沖縄島北部及び西表島」の世界遺産としての顕著な普遍的価値として評価されたものは次のうちどれ？

- ① せいいたいけい 生態系
- ② せいぶつたようせい 生物多様性
- ③ しぜんけいがん 自然景観

答え

まなざしを高く



こころざしを大きく